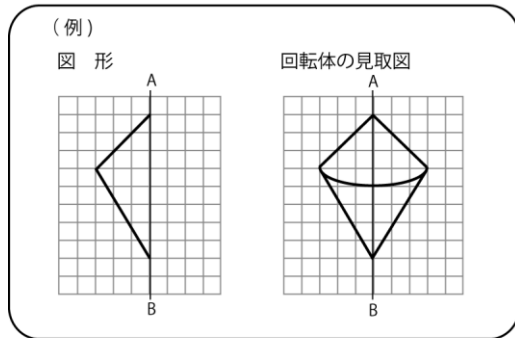


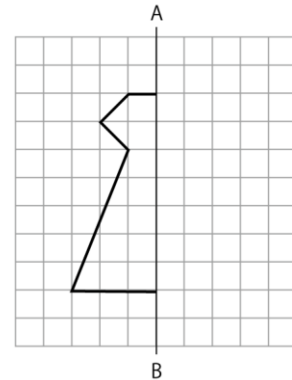
問題用紙

ファッション技術科

- 【1】 例にならって、右の図形を直線 AB を回転の軸として、1 回転させてできる回転体の見取図をかきなさい。



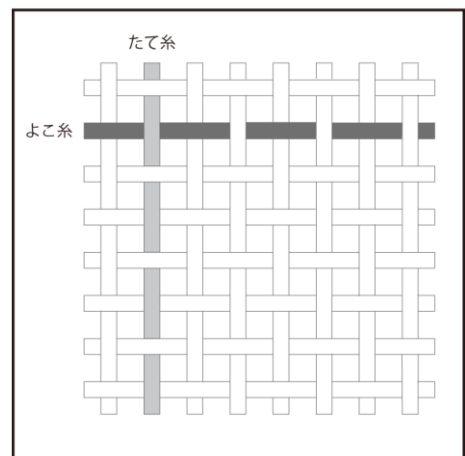
図形



- 【2】 織物は下の図のように、たて糸とよこ糸を交差させて作られている。解答用紙の図を、次の条件に従って色鉛筆で塗りなさい。

- 条件 ①「冬」をイメージさせる色使いにする。
②使用する色は3色以上6色以内とする。
③1本のたて糸またはよこ糸は、同じ色とする。
④すべての糸をていねいに塗る。

「織物の拡大図」



- 【3】 解答用紙にある図を、形や明暗を観察して、鉛筆でていねいに模写しなさい。