

受検 番号	(算用数字)
----------	--------


解 答 用 紙（その1）
電子機械科

※	

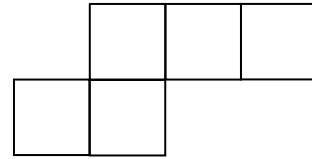
1	
---	--

(1)
(2)
(3)
(4)

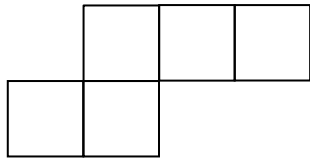
(1)



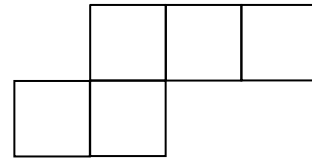
(2)



(3)



(4)

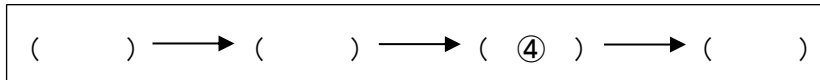


2	
---	--

(1)
(2)

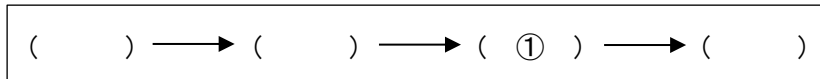
(1)

明るい \longrightarrow 暗い



(2)

明るい \longrightarrow 暗い



受検 番号	(算用数字)
----------	--------

解 答 用 紙 (その2)

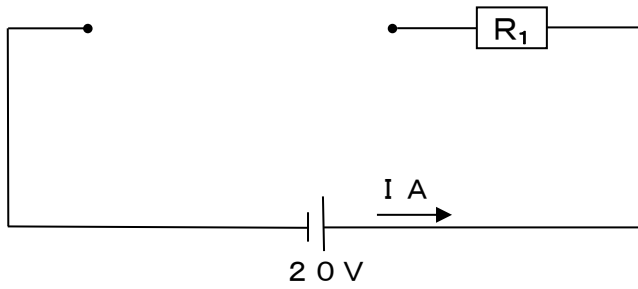
電子機械科

※

3	
---	--

(1)
(2)
(3)
(4)

(1)



(2) $I =$ _____ [A]

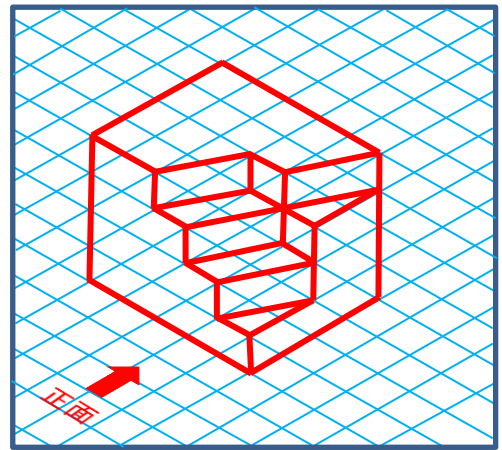
(3) $R_1 =$ _____ [Ω]

(4) $R_0 =$ _____ [Ω]

4	
---	--

(1)
(2)
(3)

(1) 平面図



(2) 正面図

(3) 右側面図

基準